

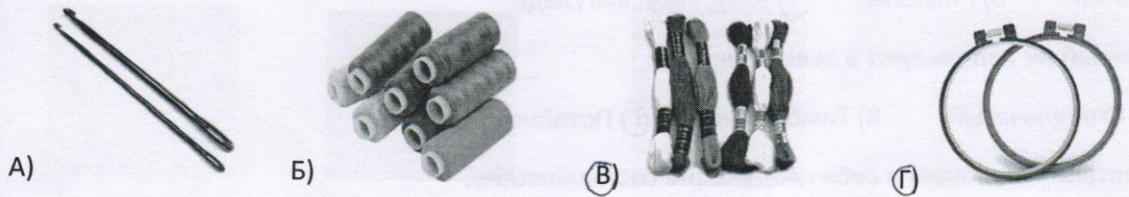
Г) Потребность в общении, потребность в самовыражении, потребность в безопасности, потребности, потребность в признании и уважении 1

10. Что означает данный знак на упаковке? А) «Не сорите»

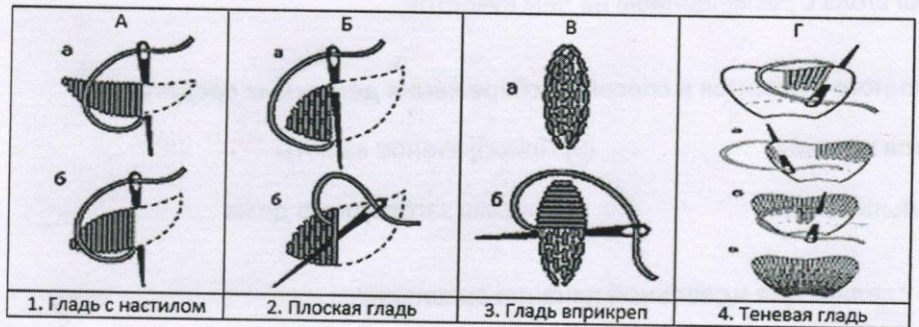


- Б) «Экологически безопасный продукт»  
 В) «Продукт не был опробован на животных»  
 Г) «Особая утилизация»

11. Что из предложенного необходимо для вышивания? 1



12. Соедините виды швов и примеры их выполнения. 1



- А) А-2, Б-3, В-1, Г-4    Б) А-2, Б-3, В-4, Г-1    В) А-3, Б-2, В-1, Г-4    Г) А-2, Б-1, В-3, Г-4

13. Соотнесите покупки по признаку рациональной потребности и их характеристику: 1

А	Срочные	1	Вещи улучшенного качества, повышенной комфортности.
Б	Обязательные	2	Вещи, которые следует купить немедленно.
В	Желательные	3	Эксклюзивные вещи.
Г	Престижные	4	Вещи, которые обеспечивают нормальную жизнь семьи.

- А) А-2, Б-4, В-3, Г-1    Б) А-4, Б-2, В-1, Г-3    В) А-4, Б-2, В-3, Г-1    Г) А-2, Б-4, В-1, Г-3

14. Решите задачу.

Рассчитайте прибыль, которую можно получить от реализации выращенной на приусадебном участке продукции, по формуле

$$П = Д - С,$$

где П - прибыль; Д - доход, рыночная стоимость товара; С - себестоимость выращенной продукции, если урожайность куста ежевики составляет 1 кг, всего кустов на приусадебном участке 30, а рыночная цена за 1 кг ежевики составляет 80 д.е. (далее д.е.). Покупка одного куста обошлась в 40 д.е., а на полив было затрачено 95 д.е., а на удобрение и опрыскивание

- А) 1440 д.е.    Б) 2400 д.е.    В) 1200 д.е.    Г) 960 д.е.

15. Как называется узор, основанный на повторе и чередовании составляющих его элементов?

1. Как называется разница между суммой денег от продажи товаров и услуг и затрат на производство?

- А) Доход    Б) Расход     В) Прибыль    Г) Товарный излишек 1

2. Какой бюджет у семьи, если доходы семьи меньше расходов? 1

- А) Дефицитный    Б) Избыточный    В) Сбалансированный    Г) Профицитный

3. Ажурное вышивание, выполняемое по продернутым нитям в ткани в виде полосы, на швейном станке - это:

- А) Мережка    Б) Батик    В) Ришелье     Г) Владимирская гладь —

4. Назовите шов, который не используют в вышивке:

- А) Петельный    Б) Стебельчатый    В) Тамбурный     Г) Потайной 1

5. Понятие режима питания включает в себя следующие составляющие:


- А) Число приемов пищи    Б) Стоимость пищи     В) Время приемов пищи 1

Г) Процесс накрытия стола с размещением на нём кувертов

6. Что из перечисленного относится к способам сбережения денежных средств? 1

- А) Покупка продуктов питания     Б) Приобретение валюты  
В) Оплата коммунальных услуг    Г) Покупка загородного дома

7. Что необходимо сделать для идеальной изнанки вышивки? 1



- А) Обрезать и оставить длинную нить  
 Б) Спрятать нить под стежками  
В) Закрепить нить в петлю  
Г) Завязать узелок

8. Верны ли следующие утверждения? —

1. История Владимирского шва тесно связана с золотным шитьем: мастера старались вышивать лицевую сторону, экономя нитки на изнаночной стороне.

2. Основа атласной глади - стебельчатый шов.

- А) Верно только 1    Б) Верно только 2    В) Оба верны    Г) Ни одно не верно

9. Укажите верную цепочку удовлетворения потребностей по А. Маслоу в возрастающем порядке:

А) Физические потребности, потребность в общении, потребность в безопасности, потребность в самовыражении, потребность в признании и уважении

Б) Потребность в безопасности, потребность в общении, потребность в самовыражении, потребность в признании и уважении, физические потребности

В) Физические потребности, потребность в безопасности, потребность в общении, потребность в признании и уважении, потребность в самовыражении

Г) Потребность в общении, потребность в самовыражении, потребность в безопасности, потребности, потребность в признании и уважении

10. Что означает данный знак на упаковке? А) «Не сорите» 1



Б) «Экологически безопасный продукт»

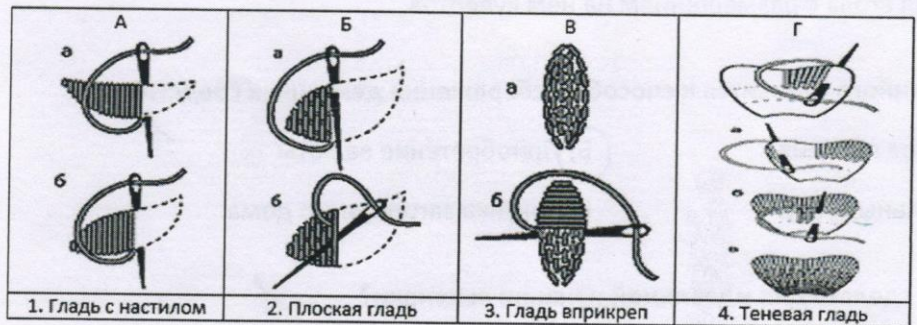
В) «Продукт не был опробован на животных»

Г) «Особая утилизация»

11. Что из предложенного необходимо для вышивания? 1



12. Соедините виды швов и примеры их выполнения.



А) А-2, Б-3, В-1, Г-4

Б) А-2, Б-3, В-4, Г-1

В) А-3, Б-2, В-1, Г-4

Г) А-2, Б-1, В-3, Г-4

13. Соотнесите покупки по признаку рациональной потребности и их характеристику: 1

А	Срочные	1	Вещи улучшенного качества, повышенной комфортности.
Б	Обязательные	2	Вещи, которые следует купить немедленно.
В	Желательные	3	Эксклюзивные вещи.
Г	Престижные	4	Вещи, которые обеспечивают нормальную жизнь семьи.

А) А-2, Б-4, В-3, Г-1

Б) А-4, Б-2, В-1, Г-3

В) А-4, Б-2, В-3, Г-1

Г) А-2, Б-4, В-1, Г-3

14. Решите задачу.

Рассчитайте прибыль, которую можно получить от реализации выращенной на приусадебном участке продукции, по формуле

$$П = Д - С,$$

где П - прибыль; Д - доход, рыночная стоимость товара; С - себестоимость выращенной продукции, если урожайность куста ежевики составляет 1 кг, всего кустов на приусадебном участке 30, а рыночная цена за 1 кг ежевики составляет 80 д.е. (далее д.е.). Покупка одного куста обошлась в 40 д.е., а на удобрение и опрыскивание

А) 1440 д.е.

Б) 2400 д.е.

В) 1200 д.е.

Г) 960 д.е.

15. Как называется узор, основанный на повторе и чередовании составляющих его элементов? 1

Ритмический

Салтыковой Ана Ивановна

Олимпиадные задания по технологии (девочки) 8 класс

1. Как называется разница между суммой денег от продажи товаров и услуг и затратами на производство?

- А) Доход     Б) Расход    В) Прибыль    Г) Товарный излишек —

2. Какой бюджет у семьи, если доходы семьи меньше расходов?

- А) Дефицитный    Б) Избыточный    В) Сбалансированный    Г) Профицитный 1

3. Ажурное вышивание, выполняемое по продернутым нитям в ткани в виде полосы, на швейных машинах - это:

- А) Мережка    Б) Батик    В) Ришелье    Г) Владимирская гладь 1

4. Назовите шов, который не используют в вышивке:

- А) Петельный    Б) Стебельчатый     В) Тамбурный    Г) Потайной —


5. Понятие режима питания включает в себя следующие составляющие:

- А) Число приемов пищи    Б) Стоимость пищи     В) Время приемов пищи 1  
Г) Процесс накрытия стола с размещением на нём кувертов

6. Что из перечисленного относится к способам сбережения денежных средств?

- А) Покупка продуктов питания     Б) Приобретение валюты 1  
В) Оплата коммунальных услуг    Г) Покупка загородного дома

7. Что необходимо сделать для идеальной изнанки вышивки? 1



- А) Обрезать и оставить длинную нить  
 Б) Спрятать нить под стежками  
В) Закрепить нить в петлю  
Г) Завязать узелок

8. Верны ли следующие утверждения? —

1. История Владимирского шва тесно связана с золотным шитьем: мастера старались вышивать лицевую сторону, экономя нитки на изнаночной стороне.

2. Основа атласной глади - стебельчатый шов.

- А) Верно только 1    Б) Верно только 2    В) Оба верны    Г) Ни одно не верно

9. Укажите верную цепочку удовлетворения потребностей по А. Маслоу в возрастающем порядке: 1

- А) Физические потребности, потребность в общении, потребность в безопасности, потребность в самовыражении, потребность в признании и уважении  
Б) Потребность в безопасности, потребность в общении, потребность в самовыражении, потребность в признании и уважении, физические потребности  
 В) Физические потребности, потребность в безопасности, потребность в общении, потребность в признании и уважении, потребность в самовыражении